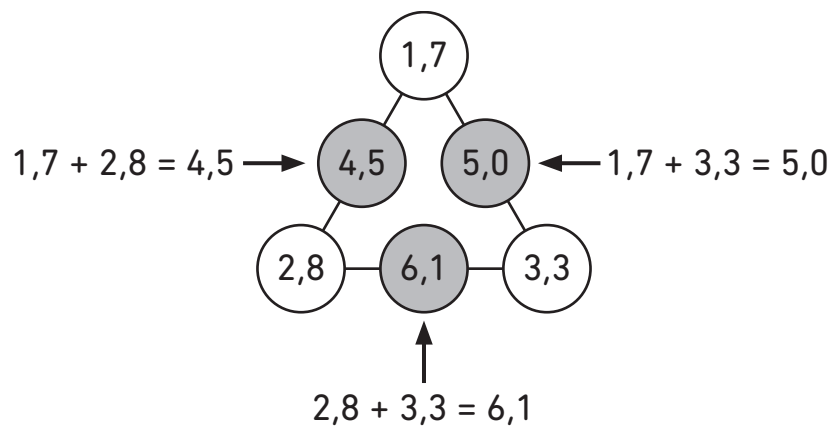


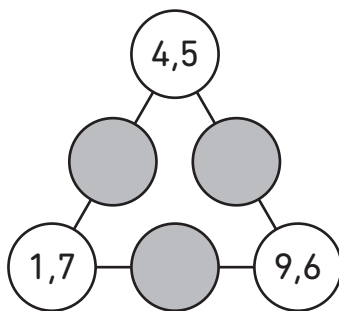
## LE TRIANGLE MAGIQUE

Sur la figure ci-dessous, le nombre dans chaque cercle gris est la somme des nombres des deux cercles blancs voisins.

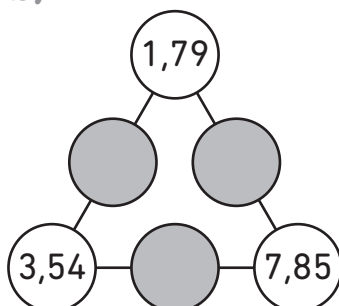


1 Complète avec les sommes manquantes.

a)

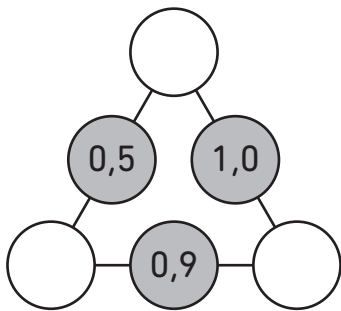


b)

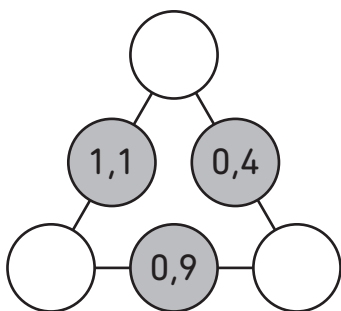


## 2 Complète avec les nombres manquants.

a)



b)



### Défi

Les cercles sont maintenant rangés en carré. Le nombre dans chaque cercle gris est la somme des nombres des deux cercles blancs voisins. Complète les nombres manquants.

