

6. Les euros

Révisions

1 Écris les sommes d'argent en euros.

a)

Quatre-vingts centimes	C	<input style="width: 40px; height: 20px;" type="text"/> €
------------------------	---	---

b)

Trois euros et vingt centimes	C	<input style="width: 40px; height: 20px;" type="text"/> €
-------------------------------	---	---

c)

Dix-neuf euros et quatre-vingts centimes	C	<input style="width: 40px; height: 20px;" type="text"/> €
--	---	---

d)

Quatre-vingt-dix-neuf euros et cinq centimes	C	<input style="width: 40px; height: 20px;" type="text"/> €
--	---	---

2 Écris les sommes d'argent en centimes.

a) $0,08 \text{ €} = \text{ } \text{ c}$

b) $2,20 \text{ €} = \text{ } \text{ c}$

c) $9,32 \text{ €} = \text{ } \text{ c}$

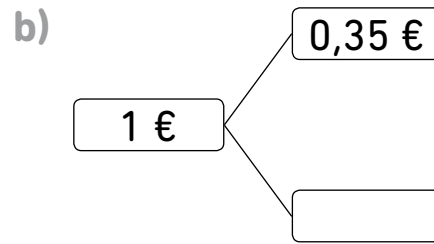
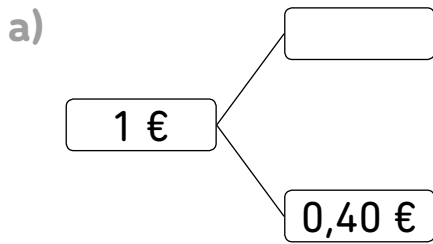
3 Écris les sommes d'argent en euros.

a) $95 \text{ c} = \text{ } \text{ €}$

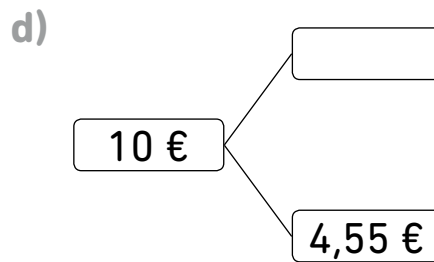
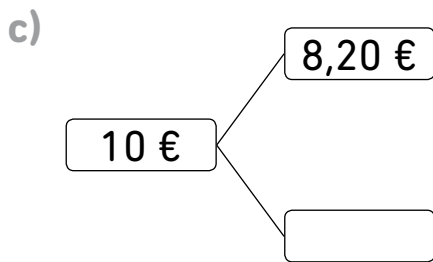
b) $632 \text{ c} = \text{ } \text{ €}$

c) $1\ 530 \text{ c} = \text{ } \text{ €}$

4 Complète pour faire 1 €.



Complète pour faire 10 €.



5 Additionne les sommes d'argent.

a) $2 \text{ €} + 90 \text{ c} = \boxed{} \text{ €}$

b) $3,25 \text{ €} + 65 \text{ c} = \boxed{} \text{ €}$

c) $3,95 \text{ €} + 0,90 \text{ €} = \boxed{} \text{ €}$

d) $0,75 \text{ €} + 7,55 \text{ €} = \boxed{} \text{ €}$

6 Soustrais les sommes d'argent.

a) $5,80 \text{ €} - 75 \text{ c} = \boxed{} \text{ €}$

b) $3 \text{ €} - 85 \text{ c} = \boxed{} \text{ €}$

c) $3,30 \text{ €} - 0,90 \text{ €} = \boxed{} \text{ €}$

d) $70,20 \text{ €} - 39,75 \text{ €} = \boxed{} \text{ €}$

- 7** Une radio coûtait 94,50 €.
Vincent l'a payée 65,90 € pendant les soldes.
Combien a-t-il économisé ?



- 8** Pour faire des sandwiches, Charles achète du pain à 3,95 €
et du fromage à 6,45 €.
Combien Charles dépense-t-il pour faire ses sandwiches ?



- 9** Juliette a reçu 15 € d'argent de poche.
Elle a dépensé 9,85 € et a économisé le reste.
- a) Combien a-t-elle économisé ?
 - b) De combien la somme dépensée est-elle supérieure à la somme économisée ?



- 10** Nina a dépensé 25,30 € à la librairie.
Hugo a dépensé 6,65 € de moins qu'elle.
Quelle est la somme totale dépensée par les deux enfants ?

